


1.- ¿QUE ES LA PUBLICIDAD?.

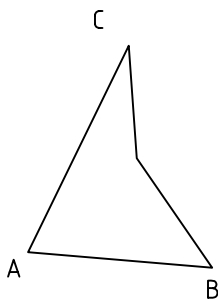
2.- ¿ QUE ES UN SLOGAN?

3.- ¿ QUE ES UNA MARCA?

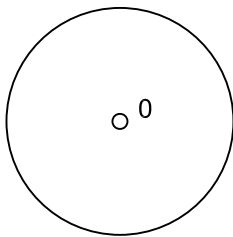
4.- DIVIDIR EL SEGMENTO AB= 57 mm. EN OCHO PARTES IGUALES.



5.- BASÁNDOSE EN EL PROCEDIMIENTO DE RADIACIÓN DESDE UN VÉRTICE, REALIZA LA FIGURA SEMEJANTE A LA INDICADA, Y CUYA RAZÓN DE SEMEJANZA SEA EL DOBLE.



6.- DIBUJA UNA RECTA TANGENTE A UNA CIRCUNFERENCIA DESDE UN PUNTO EXTERIOR "P".



P
O

7.- CUALES NO SON POLIEDROS REGULARES. DIBUJA UN EJEMPLO DE UNO DE ELLOS.

NOTA	DIBUJADO	FECHA	NOMBRE APELLIDOS