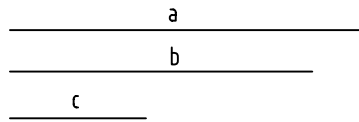



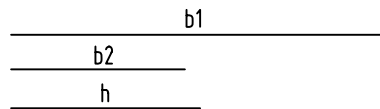
1.- Dados los lados, a, b, c, y d, construye el triángulo. seguidamente traza las alturas. ¿ como se llama el punto donde se cortan?.



2.- Realiza una composición a base de triángulos equiláteros de 30 de lado dentro del rectángulo indicado.



3.- Dados los lados a, b y la altura h, construye un trapecio rectángulo. ¿ cuantas diagonales tiene?.



4.- Realiza una composición artística en la que intervenga: un estrellado de cinco puntas y otros trazados geométricos tale como círculos.



5.- ¿Que es una simetría axial?.

NOTA	DIBUJADO	FECHA	NOMBRE APELLIDOS	