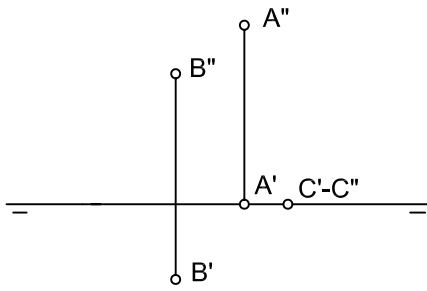


INDICA LA COTA Y ALEJAMIENTO DE LOS PUNTOS REPRESENTADOS

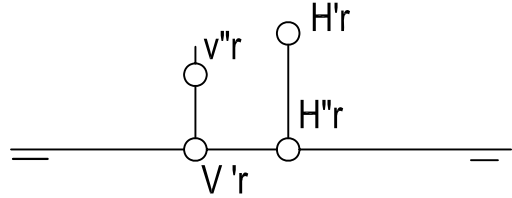


PUNTO A
 COTA -----
 ALEJAMIENTO -----

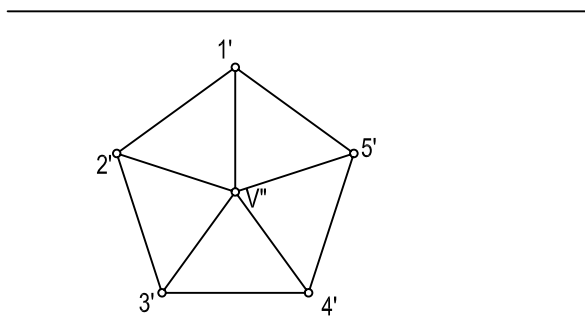
PUNTO B
 COTA -----
 ALEJAMIENTO -----

PUNTO C
 COTA -----
 ALEJAMIENTO -----

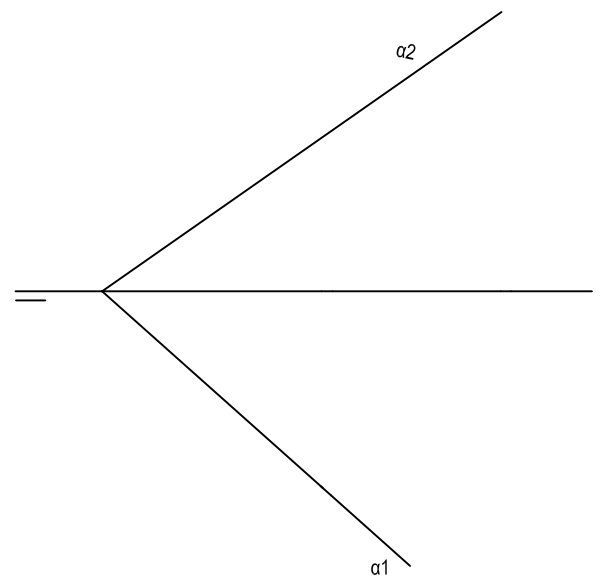
REPRESENTA LA RECTA QUE PASA POR LOS PUNTOS V Y H.



DADA LA PROYECCIÓN HORIZONTAL DE UNA PIRÁMIDE PENTAGONAL . HALLAR SU PROYECCIÓN VERTICAL SABIENDO QUE LA ALTURA VALE 50 mm.



REPRESENTAR UNA RECTA r CONTENIDA EN EL PLANO α



NOTA	DIBUJADO	FECHA	NOMBRE APELLIDOS
TERCERO DE LA ESO. LÁMINA 9			