
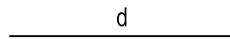


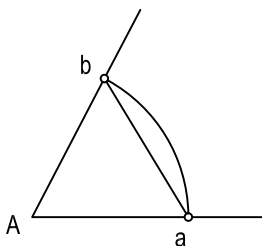
POR MEDIO DEL COMPÁS, TRAZA LA PARALELA A UNA RECTA QUE PASE POR UN PUNTO EXTERIOR.



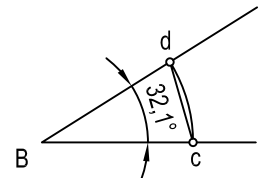
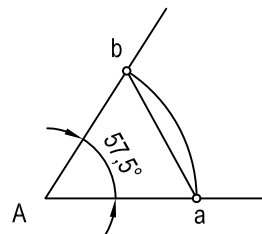
POR MEDIO DEL COMPÁS, TRAZA LA PARALELA A UNA RECTA A UNA DISTANCIA DADA.



DADO UN ÁNGULO, CONSTRUYE OTRO IGUAL



DADOS DOS ÁNGULOS Y POR MEDIO DEL COMPÁS, HALLA SU SUMA.



NOTA	DIBUJADO	FECHA	NOMBRE APELLIDOS
TERCERO DE LA E.S.O. LÁMINA N° 3			