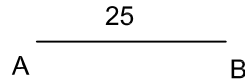



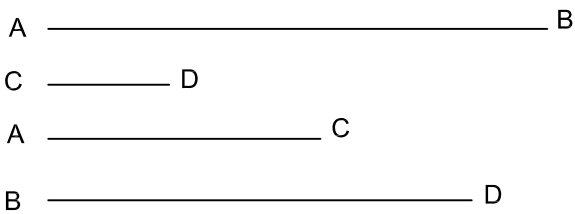
CONSTRUIR EL DECÁGONO INSCRITO EN UNA CIRCUNFERENCIA DE RADIO $r = 25$ mm.

CONSTRUIR UN PENTÁGONO DE LADO $AB = 25$ mm.



CONSTRUIR UN TRAPEZIO DE BASE MAYOR $AB = 66$ mm.. BASE MENOR $CD = 16$ mm. Y DIAGONALES $AC = 36$ mm. Y $BD = 56$ mm.

HALLAR EL RECTÁNGULO ÁUREO CUYO LADO MAYOR $AB = 45$ mm,



NOTA	DIBUJADO	FECHA	NOMBRE APELLIDOS
PRIMERO BACHILLERATO LÁMINA 4			