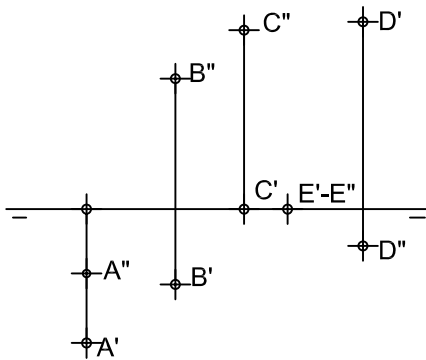


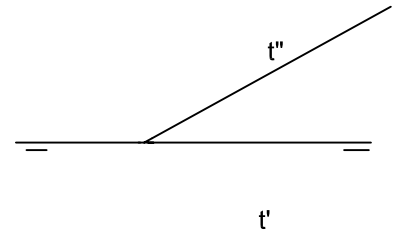
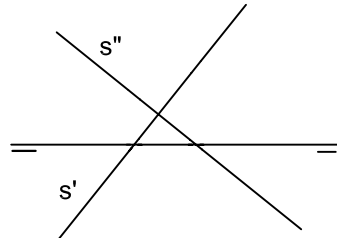
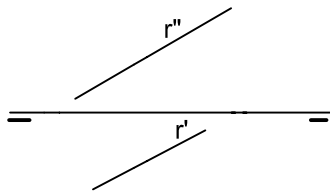
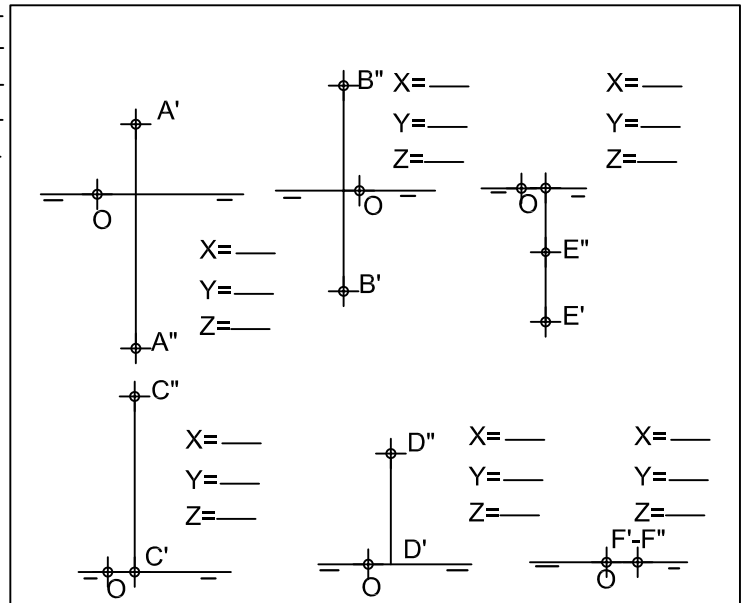
INDICA EN QUE DIEDROS SE ENCUENTRAN LOS PUNTOS REPRESENTADOS

DETERMINAR LAS COORDENADAS DE LOS PUNTOS SIGUIENTES.



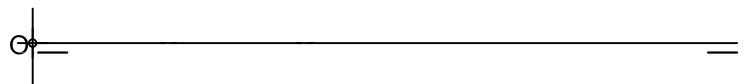
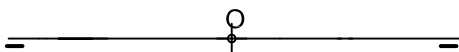
HALLAR LAS TRAZAS, SITUACIÓN DE LAS RECTAS, LAS PARTES VISTAS Y OCULTAS, ASI COMO LA INTERSECCIÓN CON LOS PLANOS BISECTORES DE LAS RECTAS - r, s, t.

- A= _____
- B= _____
- C= _____
- D= _____
- E= _____



SITUAR LOS SIGUIENTES PUNTOS EN EL SISTEMA DIÉDRICO: A (-25, 0, 20), B(-15, 15, 5), C (-5, 10, -10), D (5, -5, -15), E(15, -20, 0) Y F (25, -5, 15). ORIGEN EN EL CENTRO DE LA LÍNEA DE TIERRA.

HALLAR LA INTERSECCIÓN DE LA RECTA " r " DADA POR LOS PUNTOS, A (30,10,10) Y B(36,15,0) CON LOS PLANOS DE PROYECCIÓN Y CON LOS BISECTORES, MARCANDO LAS PARTES VISTAS Y OCULTAS.



NOTA	DIBUJADO	FECHA	NOMBRE APELLIDOS
PRIMERO DE BACHILLERATO LÁMINA 9			