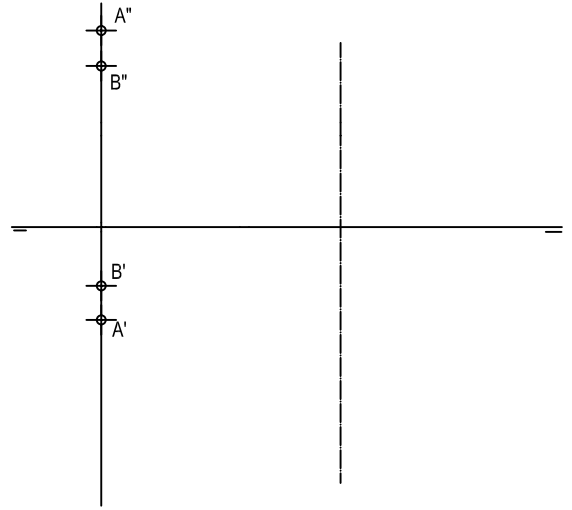



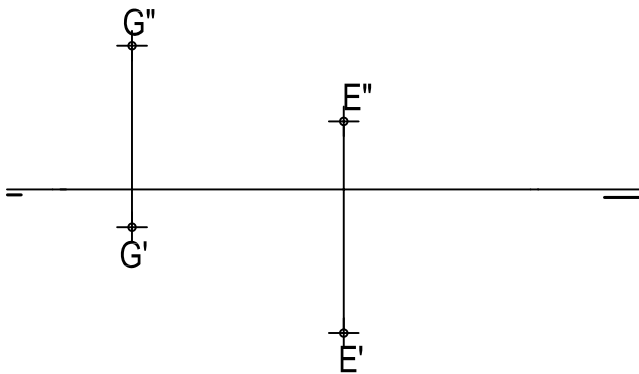
REPRESENTAR LA RECTA QUE PASA POR LOS PUNTOS A (50,8,24) Y B(8,-14,-10). INDICAR LAS PARTES VISTAS Y OCULTAS. MEDIDAS EN MM.

HALLAR LAS TRAZAS DE LA RECTA -S- DE PERFIL QUE PASA POR LOS PUNTOS A Y B



HALLAR LAS TRAZAS DE LA RECTA -r- DADA POR LOS PUNTOS -E- Y -G-. DETERMINAR LAS PARTES VISTAS Y OCULTAS. INDICAR QUE DIEDROS ATRAVIESA.

REPRESENTA UNA RECTA DE PUNTA EN EL PRIMER CUADRANTE Y EN EL CUARTO CUADRANTE QUE PASE POR EL PUNTO A Y B RESPECTIVAMENTE.



NOTA	DIBUJADO	FECHA	NOMBRE APELLIDOS
PRIMERO DE BACHILLERATO LAMINA 10			