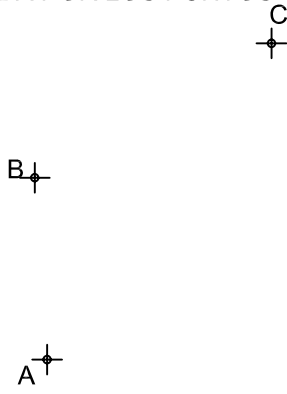


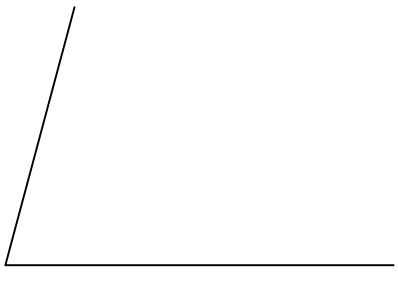
DETERMINAR EL CENTRO DE LA CIRCUNFERENCIA DADA POR LOS PUNTOS -A,B,C-



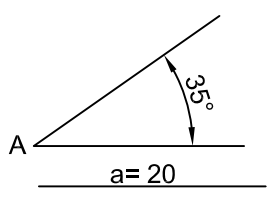
DIVIDIR UN SEGMENTO DE AB= 87 mm. EN SIETE PARTES IGUALES.



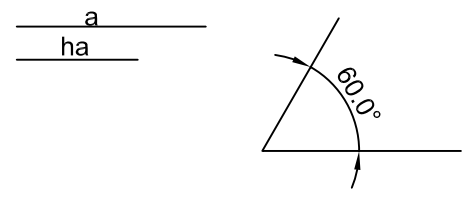
TRAZAR LA TRISECCIÓN DEL ÁNGULO DADO α A= 75 GRADOS.



DADO EL LADO -a = 20 mm- EL ÁNGULO -A=35°, CONSTRUIR UN TRIÁNGULO ISÓSCELES.



CONSTRUIR UN TRIÁNGULO EN EL QUE SE CONOCE EL LADO a = 25, EL ÁNGULO a = 60°. Y LA ALTURA ha = 16.



© 2008 www.cadmodeling.com

NOTA	DIBUJADO	FECHA	NOMBRE APELLIDOS
PRIMERO BACHILLER. LAMINA Nº 2			