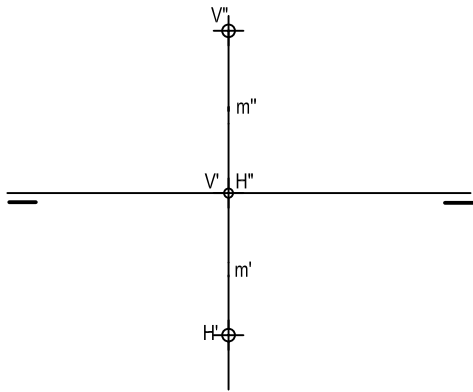
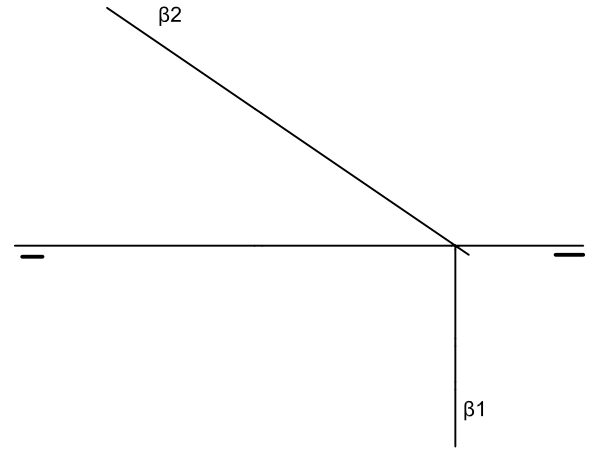


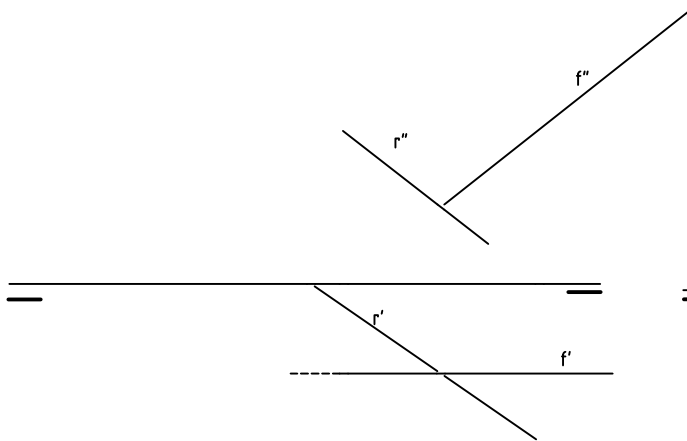
HALLAR EL PUNTO -B- DE INTERSECCIÓN DE LA RECTA DADA CON EL PRIMER BISECTOR



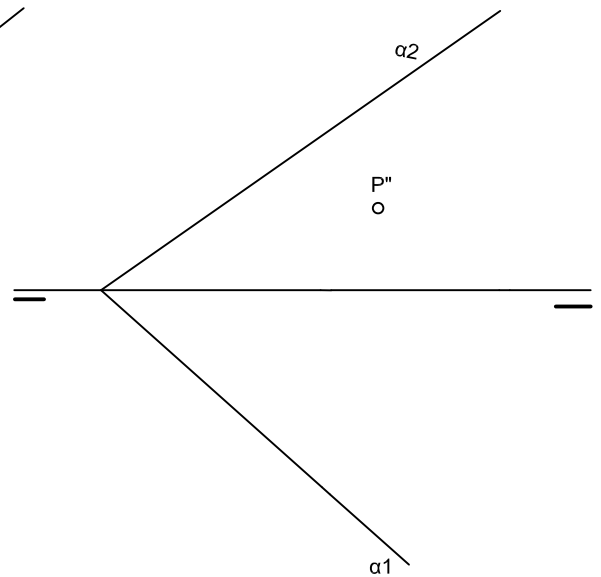
DIBUJA UNA RECTA -S- (FRONTAL) Y OTRA -R- (OBLICUA CUALQUIERA) CONTENIDAS EN EL PLANO DADO P



HALLAR LAS TRAZAS DEL PLANO DADAS POR LAS RECTAS -r - Y -f -



P'' ES LA PROYECCIÓN VERTICAL DE UN PUNTO P PERTENECIENTE AL PLANO α (α_1, α_2). DETERMINAR LA RECTA DE MÁXIMA PENDIENTE DE ESTE PLANO QUE PASA POR EL PUNTO P.



| NOTA | DIBUJADO | FECHA | NOMBRE APELLIDOS |
|----------------------------------|----------|-------|------------------|
| | | | |
| PRIMERODE BACHILLERATO LAMINA 12 | | | |