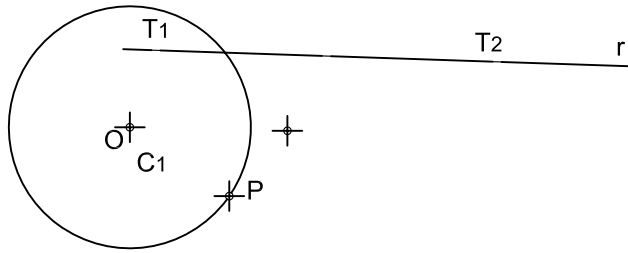
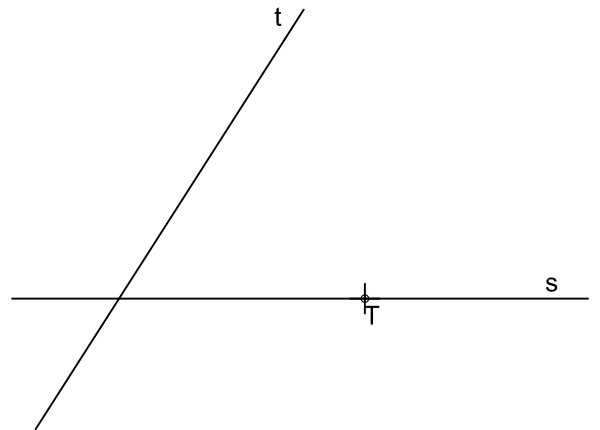


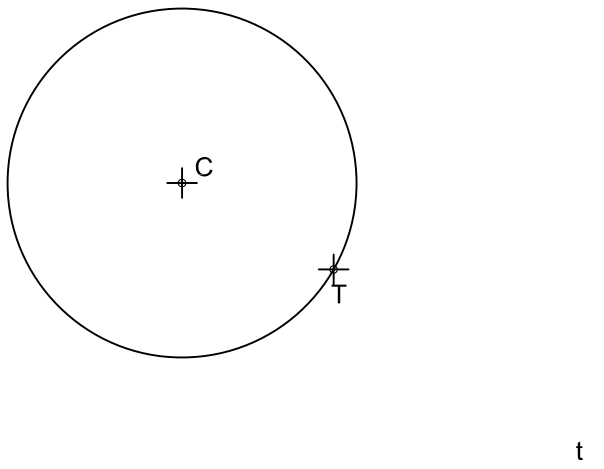
CIRCUNFERENCIA TANGENTE A UNA CIRCUNFERENCIA DE CENTRO "O" Y A UNA RECTA "r", EN UN PUNTO DE LA CIRCUNFERENCIA.



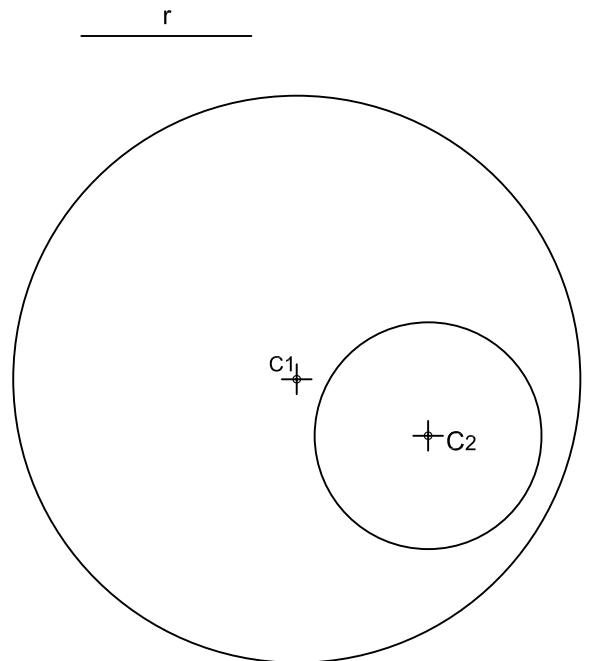
DIBUJAR LA CIRCUNFERENCIA TANGENTE A LAS RECTAS DADAS "t" Y "s", CONOCIDO EL PUNTO DE TANGENCIA "T" EN UNA DE ELLAS.



DIBUJAR LAS CIRCUNFERENCIAS TANGENTES A UNA RECTA "t" Y A OTRA CIRCUNFERENCIA "c" CONOCIDO EL PUNTO DE TANGENCIA "T" EN LA CIRCUNFERENCIA.



TRAZAR LAS CIRCUNFERENCIAS TANGENTES A LAS CIRCUNFERENCIAS DE CENTRO C1 Y C2 DADO EL RADIO DE LA SOLUCIÓN "r".



NOTA	DIBUJADO	FECHA	NOMBRE APELLIDOS
PRIMERO DE BACHILLERATO LÁMINA 6			